

TEHTÄVÄMONISTE 5.– 6. -LUOKKALAISILLE







1. OMA ELÄINSUHDE

A) Mikä eläin? Kirjoita viivalle.

B) Mitä tunteita eläin sinussa herättää? Piirrä ympyrään hymiö: 😊 😞 😍 😜 😡



C) Mitkä eläimet eivät elä Suomessa? Ympyröi.

D) Tiedätkö, missä kyseiset eläimet elävät? Selvitä.



2. ILOINEN VAI VIHAINEN?

Onko eläimillä tunteet? Kirjoita sopiva tunnetila (leikkisä, huolehtiva, vihainen, alistunut).



3. ERILAISIA ELÄIMIÄ

A) Etsi tämän monisteen eläimistä KAKSI esimerkkiä jokaiseen eläinryhmään.

kissaeläimet _____

näätäeläimet _____

hirvieläimet _____

koiraeläimet _____

karhueläimet _____

jiysijät _____

linnut _____

B) Eläinryhmiin, kuten lintuihin, kuuluu hyvin erilaisia lajeja. Täydennä laatikosta.



nimi: _____

ryhmä: _____

ravinto: _____



nimi: _____

ryhmä: _____

ravinto: _____




nimi: _____

ryhmä: _____

ravinto: _____

vesikasvit kanalinnut laulujoutsen petolinnut jänikset metso sorsalinnut silmut,lehdet maakotka

C) Hirvieläimet. Yhdistä sarvet oikealle eläimelle.



4. KUKA SYÖ KETÄ?

Elämän suuressa kiertokulussa jotkut eläimet syövät kasveja, jotkut taas näitä eläimiä. On niitäkin eläimiä, joille kelpaa purtavaksi melkein mikä vain. Lopulta kuolemansa jälkeen kaikki päätyvät uudelleen luonnon kiertokulkuun, ravinteeksi uusille kasveille.

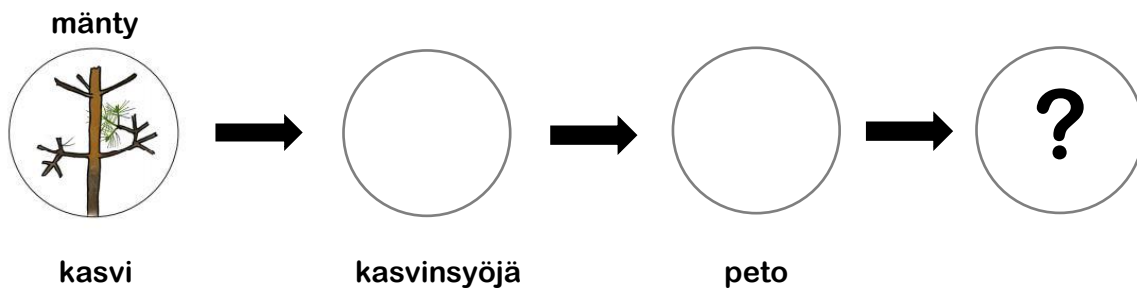
A) Nimeä tästä monisteesta

3 petoa _____

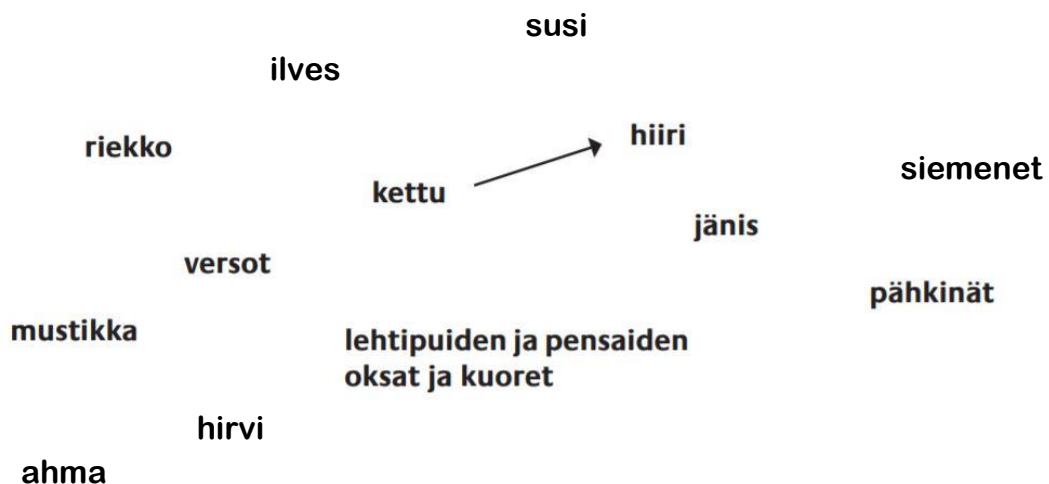
3 kasvinsyöjää _____

2 kaikkiruokaista _____

B) Jatka ravintoketjua monisteessa olevilla eläimillä. Keksitkö kuka voisi olla ketjun viimeinen?



C) Luonnossa yksinkertaisista ravintoketjuista muodostuu monimutkaisia ravintoverkkoja. Täydennä ravintoverkko nuolilla.




5. ELÄINTEN JÄLJET

Metsä voi olla hiljaistakin hiljaisempi, mutta sen kätköissä on silti elämää. Kun katsoo oikein tarkkaan, voi nähdä paljon merkkejä eri eläimistä.



6. MISTÄ RUOKA TULEE?

Yhdistä eläin ja siitä saatava ruoka.



7. KARHU AASIASTA

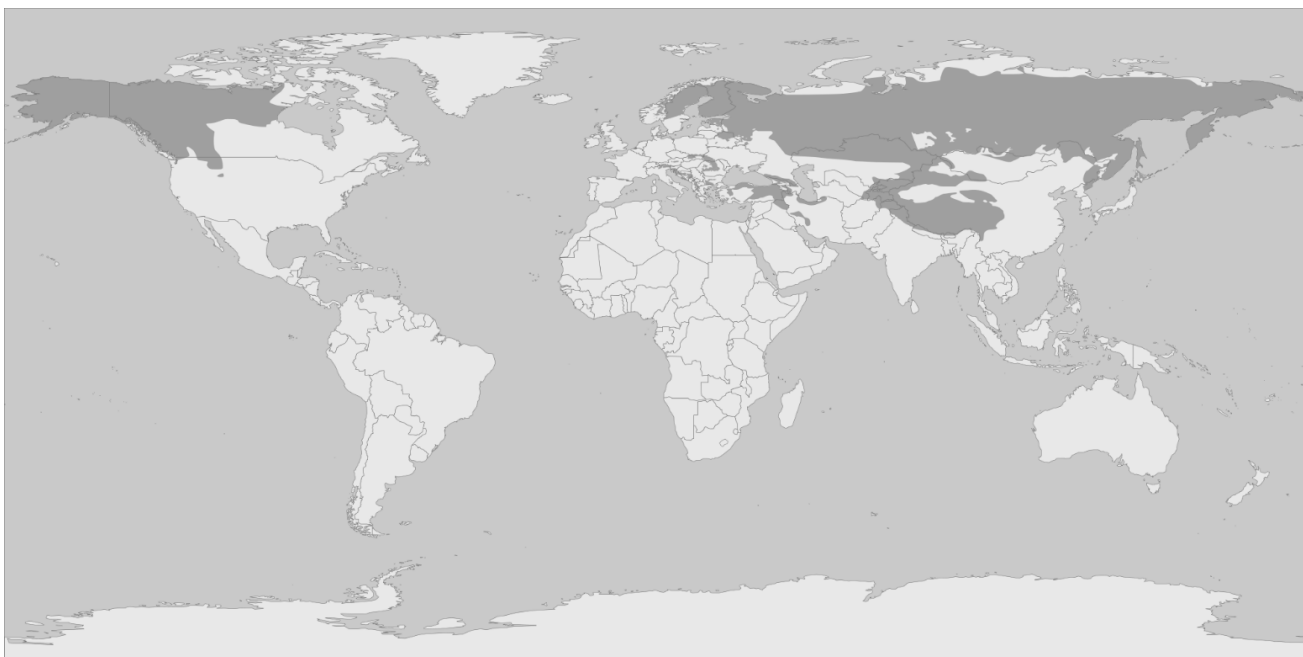
A) Ruskeakarhu vai isopanda? Yhdistä viivalla oikeaan karhuun.



ELÄÄ SUOMESSA
SYÖ BAMBUA
SYÖ MARJOJA
EI NUKU TALVIUNTA
ELÄÄ AASIASSA
SYÖ LIHAA
EI UHANALAINEN
NUKKUU TALVIUNTA
UHANALAINEN



B) Väritä kartasta ruskeakarhujen elinalue (tumman harmaa). Vahvista kartasta sen maan rajat, jossa isopandoja elää.



C) Mitä tarkoittaa uhanalainen? _____

D) Miksi panda on uhanalainen? _____

8. ELÄIMET KADOKSISSA

Etsi kaikki eläimet ruudukosta. Ne voivat sijaita ruudukossa vaaka- tai pystysuorassa tai vinottain.

susi, metso, isopanda, peltopyy, hirvi, majava, huuhkaja, kettu, lumileopardi, kärppä, saukko, lehmä, lammas, vuohi, korppi, täpläkauris, metsämyyrä, ilves, karhu, kana

S	U	S	I	A	H	G	T	R	H	U	L	I	O	P	S	B	E	A	S	N	K	K
U	H	R	J	I	U	S	D	L	U	M	I	L	E	O	P	A	R	D	I	V	N	A
A	S	S	R	T	U	T	H	E	I	J	K	S	L	E	S	A	N	M	H	K	M	N
M	M	Y	U	A	H	Ä	K	H	U	H	R	Y	O	L	A	N	U	I	O	E	T	A
E	H	H	K	U	K	P	O	M	P	L	K	O	R	P	P	I	A	Y	D	M	V	N
T	H	I	A	T	A	L	L	Ä	J	K	E	R	A	S	A	V	N	L	A	A	S	E
S	N	U	R	M	J	Ä	K	E	A	S	L	Ä	O	Y	E	N	R	N	E	J	H	I
Ä	J	K	H	V	A	K	V	E	S	T	R	N	V	G	P	O	D	E	V	A	N	M
M	O	U	U	H	I	A	K	Ä	R	P	P	Ä	K	U	E	L	A	A	S	V	P	U
Y	J	K	D	E	V	U	N	S	E	E	T	H	S	U	O	L	I	P	E	A	S	T
Y	L	U	E	R	V	R	H	A	M	E	T	S	O	T	T	H	E	L	S	N	L	I
R	I	T	R	E	N	I	K	U	L	I	E	D	C	Y	H	J	I	U	V	I	J	L
Ä	L	A	M	M	A	S	O	K	H	E	P	E	L	T	O	P	Y	Y	N	E	J	O
A	S	N	X	T	H	I	L	K	H	O	P	T	U	I	E	H	L	P	N	S	S	A
H	E	R	S	N	U	I	H	O	K	T	U	I	Ö	E	D	T	K	E	T	T	U	I

9. OIKEIN VAI VÄÄRIN?

	OIKEIN	VÄÄRIN
1. Sudella on hyvä hajuaisti.		
2. Kettu ei kuulu koira-eläimiin.		
3. Takineja elää Suomessa.		
4. Ahma on kaikkiruokainen.		
5. Poro ja metsäpeura voivat saada jälkeläisiä.		
6. Linnuilla ei ole korvia.		
7. Korppi on älykäs.		
8. Huuhkaja on peto.		
9. Vesikko on runsaslukuinen laji Suomessa.		
10. Pikkupanda ja panda ovat läheistä sukua toisilleen.		
11. Näätä ei nuku talviunta.		
12. Ahma kuuluu näätäeläimiin.		
13. Ilveksellä on tarkka näköaisti.		
14. Lumileopardeja elää vuoristoissa.		
15. Saukko on vaihtolämpöinen.		